

**Time: 10 Minutes**      **Paper Math 4**      **Total Marks: 10**

6th Month, 1st Week, 3rd Day | Syllabus: **Unit 6:** Exercise No. 1 Q No. 3, 4

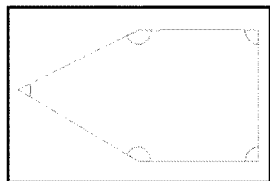
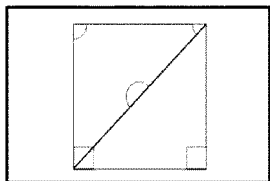
**Q.No.1. Convert measurements:** (5)

سوال نمبر 1: دی گئی پیمائش کے مطابق زاویے بنائیں:

- (a)  $60^\circ$       (b)  $115^\circ$

**Q.No.2. Measure the angles in the following figures and write their names as well:** (5)

سوال نمبر 2: دی گئی اشکال میں زاویوں کی پیمائش کریں:



**Time: 10 Minutes**      **Paper Math 4**      **Total Marks: 10**

6th Month, 1st Week, 3rd Day | Syllabus: **Unit 6:** Exercise No. 1 Q No. 3, 4

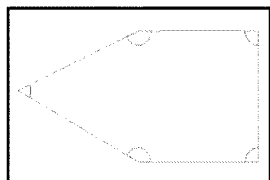
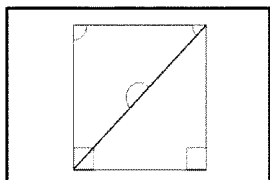
**Q.No.1. Convert measurements:** (5)

سوال نمبر 1: دی گئی پیمائش کے مطابق زاویے بنائیں:

- (a)  $60^\circ$       (b)  $115^\circ$

**Q.No.2. Measure the angles in the following figures and write their names as well:** (5)

سوال نمبر 2: دی گئی اشکال میں زاویوں کی پیمائش کریں:



**Time: 10 Minutes**      **Paper Math 4**      **Total Marks: 10**

6th Month, 1st Week, 3rd Day | Syllabus: **Unit 6:** Exercise No. 1 Q No. 3, 4

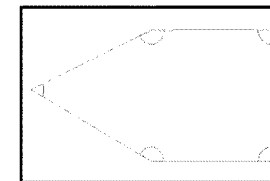
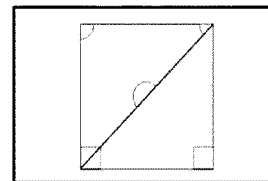
**Q.No.1. Convert measurements:** (5)

سوال نمبر 1: دی گئی پیمائش کے مطابق زاویے بنائیں:

- (a)  $60^\circ$       (b)  $115^\circ$

**Q.No.2. Measure the angles in the following figures and write their names as well:** (5)

سوال نمبر 2: دی گئی اشکال میں زاویوں کی پیمائش کریں:



**Time: 10 Minutes**      **Paper Math 4**      **Total Marks: 10**

6th Month, 1st Week, 3rd Day | Syllabus: **Unit 6:** Exercise No. 1 Q No. 3, 4

**Q.No.1. Convert measurements:** (5)

سوال نمبر 1: دی گئی پیمائش کے مطابق زاویے بنائیں:

- (a)  $60^\circ$       (b)  $115^\circ$

**Q.No.2. Measure the angles in the following figures and write their names as well:** (5)

سوال نمبر 2: دی گئی اشکال میں زاویوں کی پیمائش کریں:

